

Soccer-Academy-Kassel

Mathe aufgaben 3, 4 & 5 Klasse

Welche Zahl fehlt? Trage in die folgenden Rechenaufgaben die fehlenden Zahlen ein, damit die Rechnung stimmt. Es dürfen nur die Zahlen von 1 bis 9 verwendet werden!

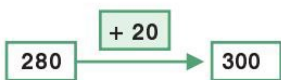
Achte auf die richtige Reihenfolge!
Es gilt immer: Punktrechnung geht vor Strichrechnung!

$$27 : 3 \cdot \square - 45 : 5 = 72$$

$$65 : 2 : 8 + 24 : \square = 16$$

$$9 \cdot 10 : \square - 5 \cdot 6 = 15$$

Ergänze auf den nächsten Hunderter!



Wandle den unechten Bruch in einen gemischten Bruch um:

$$\frac{19}{7} = \square$$

$$\frac{25}{4} = \square$$

$$\frac{15}{4} = \square$$

$$\frac{45}{11} = \square$$

$$\frac{49}{12} = \square$$

$$\frac{30}{8} = \square$$

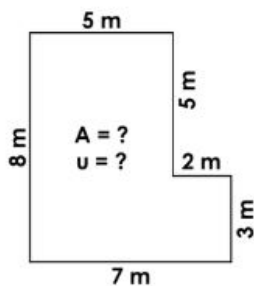
$$\frac{49}{8} = \square$$

$$\frac{38}{8} = \square$$

$$\frac{38}{10} = \square$$

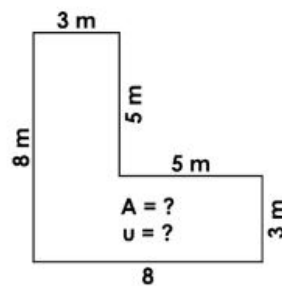
Aufgabenstellung: Trage die richtigen Lösungen ein und kontrolliere!

1.

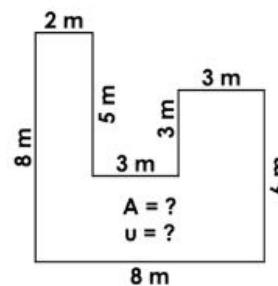


46 m² / 30 m

2.



3.



4.

